

Всероссийская проверочная работа
ДЛЯ ОЦЕНКИ МЕТАПРЕДМЕТНЫХ РЕЗУЛЬТАТОВ ОБУЧЕНИЯ
в соответствии с федеральным государственным образовательным
стандартом среднего общего образования
для обучающихся по программам среднего профессионального образования,
завершивших в предыдущем учебном году освоение общеобразовательных предметов,
проходящих обучение по очной форме на базе основного общего образования.

Вариант 46862

Инструкция по выполнению работы

Проверочная работа включает в себя 22 задания.

На выполнение диагностической работы отводится 2 часа (120 минут).

Ответами к заданиям 1, 2, 5, 6, 8, 9–12, 17–21 являются цифра, последовательность цифр или слово (словосочетание).

Задания 3, 4, 7, 13–16, 22 требуют полного ответа (дать объяснение, описание или обоснование; высказать и аргументировать собственное мнение). В случае записи неверного ответа зачеркните его и запишите рядом новый.

При выполнении работы не разрешается пользоваться учебниками, рабочими тетрадями и другими справочными материалами.

При выполнении заданий Вы можете пользоваться черновиком. Записи в черновике проверяться и оцениваться не будут.

Советуем выполнять задания в том порядке, в котором они даны. В целях экономии времени пропускайте задание, которое не удаётся выполнить сразу, и переходите к следующему. Если после выполнения всей работы у Вас останется время, то Вы сможете вернуться к пропущенным заданиям.

Баллы, полученные Вами за выполненные задания, суммируются. Постарайтесь выполнить как можно больше заданий и набрать наибольшее количество баллов.

Желаем успеха!

Таблица для внесения баллов участника

Номер задания	1	2	3	4	5	6	7	8	9	10	11	12	13	14
Баллы														
Номер задания	15(1)	15(2)	16	17	18	19	20	21	22	Сумма баллов	Отметка за работу			
Баллы														

1

Установите соответствие между историческими деятелями и информацией, относящейся к ним: к каждой позиции первого столбца подберите соответствующую позицию из второго столбца.

ИСТОРИЧЕСКИЕ ДЕЯТЕЛИ

- А) С.П. Королёв
Б) А.М. Василевский
В) Н.С. Хрущёв

ИНФОРМАЦИЯ

- 1) первый председатель правления Союза писателей СССР
2) Первый секретарь ЦК КПСС, инициатор «кукурузной компании»
3) конструктор ракетно-космических систем
4) начальник Генерального штаба в годы Великой Отечественной войны

Запишите в таблицу выбранные цифры под соответствующими буквами.

□ Ответ:

А	Б	В

2

Прочитайте четыре предложения. Два из них содержат события, процессы, явления, являющиеся причинами (предпосылками). Другие два содержат последствия этих событий, процессов, явлений. Подберите для каждой из причин (предпосылок) соответствующее ей последствие. Номера соответствующих предложений запишите в таблицу.

- 1) Было проведено обсуждение важнейших вопросов «Большой тройкой» на Тегеранской конференции.
2) Капитулировала 6-я армия под командованием фельдмаршала Фридриха Паулюса.
3) Было предпринято наступление Красной армии под Сталинградом.
4) Была созвана учредительная конференция Организации Объединённых Наций.

Номер предложения, содержащего					
		причину (предпосылку) 1	последствие 1	причину (предпосылку) 2	последствие 2
□	Ответ:				

3

Рассмотрите изображение и выполните задание.



Укажите название процесса форсированного наращивания промышленного потенциала СССР, в ходе которого был создан данный плакат.

Ответ: _____

Объясните, почему результаты указанного вами процесса важны а) для нашей страны, б) для всего человечества.

Ответ: _____



4

Прочтите отрывок из сообщения Совинформбюро.

«В первых числах апреля маршал Жуков и я были вызваны в Ставку. Через несколько часов после прибытия в Москву нас вызвали в Кремль к товарищу Сталину. Обсуждался вопрос об овладении Берлином. Товарищ Сталин сразу же задал нам с Жуковым вопрос: "Кто будет брать Берлин – Советская Армия или союзники?" Мы ответили, что, безусловно, Берлин будет взят Советской Армией.

После этого Верховный Главнокомандующий поставил перед нами вопрос, когда и как надо взять Берлин, т.е. имел в виду, чтобы мы изложили свои планы по этой операции.

Верховный Главнокомандующий дал указание о разграничительных линиях между фронтами. Причём, обращаю внимание, разгранлиния была проведена не доходя до Берлина около 50 км, что давало возможность для последующего решения в зависимости от обстановки.

Когда около 24 часов 16 апреля я доложил, что наступление идёт успешно, товарищ Сталин дал следующее указание: "У товарища Жукова идёт туго, поверните Рыбалко и Лелюшенко на Целендорф, помните, как договорились в Ставке"».

Укажите год, когда произошли события, описываемые в данном отрывке. Какую возможность, согласно данному отрывку, давало проведение разгранлинии не доходя до Берлина около 50 км? О каких государствах-союзниках СССР идёт речь в данном отрывке? Назовите одно любое государство.

□

Ответ: _____

Ознакомьтесь с перечнем и изображениями памятников культуры и выполните задания 5 и 6.

- 1) поэма «Хорошо»;
- 2) роман «Преступление и наказание»;

3)



4)



5

Какие из приведённых памятников культуры были созданы в XX в.? Выберите два памятника культуры и запишите в таблицу цифры, под которыми они указаны.

Ответ:

6

Создателем какого из приведённых памятников культуры является В.В. Маяковский? Укажите порядковый номер этого памятника культуры.

Ответ:

7

Рассмотрите изображение и выполните задание.

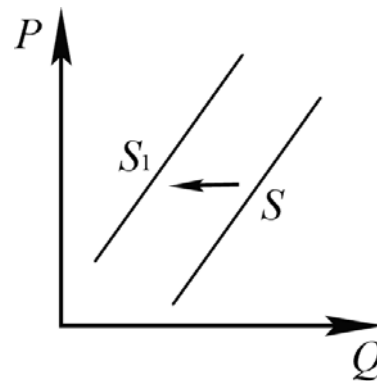


Укажите год, когда был создан данный плакат. Почему абсолютное большинство участников референдума сделало выбор, отражённый на данном плакате?

Ответ: _____

8

На рисунке отражено изменение предложения шоколада на соответствующем рынке: линия предложения S переместилась в новое положение – S_1 . (P – цена; Q – количество.)



Какие из перечисленных факторов могут вызвать такое изменение? Запишите цифры, под которыми они указаны.

- 1) банкротство крупного производителя шоколадных изделий
- 2) хороший урожай какао-бобов
- 3) ожидаемый производителями рост потребления шоколада
- 4) рост налогов на производителей шоколада
- 5) удорожание транспортных расходов производителей шоколада

Ответ: _____.

9

Установите соответствие между примерами и видами налогов и сборов согласно Налоговому кодексу РФ: к каждой позиции, данной в первом столбце, подберите соответствующую позицию из второго столбца.

ПРИМЕРЫ

- А) налог на имущество организаций
- Б) налог на доходы физических лиц
- В) водный налог
- Г) земельный налог
- Д) транспортный налог

ВИДЫ НАЛОГОВ И СБОРОВ В РФ

- 1) федеральные
- 2) региональные
- 3) местные

Запишите в таблицу выбранные цифры под соответствующими буквами.

Ответ:

А	Б	В	Г	Д

10

Выберите в приведённом списке положения, характеризующие основы конституционного строя РФ, и запишите **цифры**, под которыми они указаны.

- 1) В РФ признаются и защищаются равным образом частная, государственная, муниципальная и иные формы собственности.
- 2) Высшим непосредственным выражением власти народа являются референдум и свободные выборы.
- 3) Российская Федерация обеспечивает целостность и неприкосновенность своей территории.
- 4) Заключение трудового договора по общему правилу допускается с лицами, достигшими возраста 12 лет.
- 5) Уголовная ответственность наступает за приготовление только к тяжкому и особо тяжкому преступлениям.

Ответ: _____.

11

Установите соответствие между полномочиями и субъектами государственной власти РФ, реализующими эти полномочия: к каждой позиции, данной в первом столбце, подберите соответствующую позицию из второго столбца.

ПОЛНОМОЧИЯ

СУБЪЕКТЫ
ГОСУДАРСТВЕННОЙ ВЛАСТИ
РФ

- | | |
|---|--|
| <p>А) принятие федеральных законов</p> <p>Б) утверждение военной доктрины РФ</p> <p>В) обеспечение исполнения федерального бюджета</p> <p>Г) осуществление помилования</p> <p>Д) назначение на должность Уполномоченного по правам человека</p> | <p>1) Президент РФ</p> <p>2) Государственная Дума</p> <p>3) Правительство РФ</p> |
|---|--|

Запишите в таблицу выбранные цифры под соответствующими буквами.

Ответ:

А	Б	В	Г	Д

12

Совершеннолетние трудоспособные дети нетрудоспособного Аркадия Ниловича шесть лет не проявляли заботы о нём, он подал на них в суд. Найдите в приведённом списке позиции, соответствующие правовому решению описанного конфликта, и запишите **цифры**, под которыми они указаны.

- 1) потерпевший
- 2) конституционное судопроизводство
- 3) истец
- 4) уголовное судопроизводство
- 5) ответчик
- 6) гражданское судопроизводство

Ответ: _____.

13

Граждане РФ Елена и Евгений накануне регистрации брака решили заключить брачный договор. По обоюдному согласию они включили в него пункты о правах и обязанностях в отношении своих будущих детей, о способах участия в доходах друг друга, о порядке несения каждым супругом семейных расходов, а также пункт об обязанности супруги обязательно согласовывать с супругом все вопросы, связанные с её трудоустройством.

1) Нотариус, к которому они обратились за удостоверением брачного договора, указал на необходимость исключить два пункта. О каких пунктах из перечисленных выше идёт речь?

2) Как Вы можете объяснить свой ответ?

3) Какое условие необходимо, чтобы составленный в письменной форме и удостоверенный у нотариуса брачный договор вступил в силу?

4) Какие ещё полномочия есть у нотариуса? (Укажите любые два таких полномочия.)

Ответ на первый вопрос: _____

Ответ на второй вопрос: _____

Ответ на третий вопрос: _____

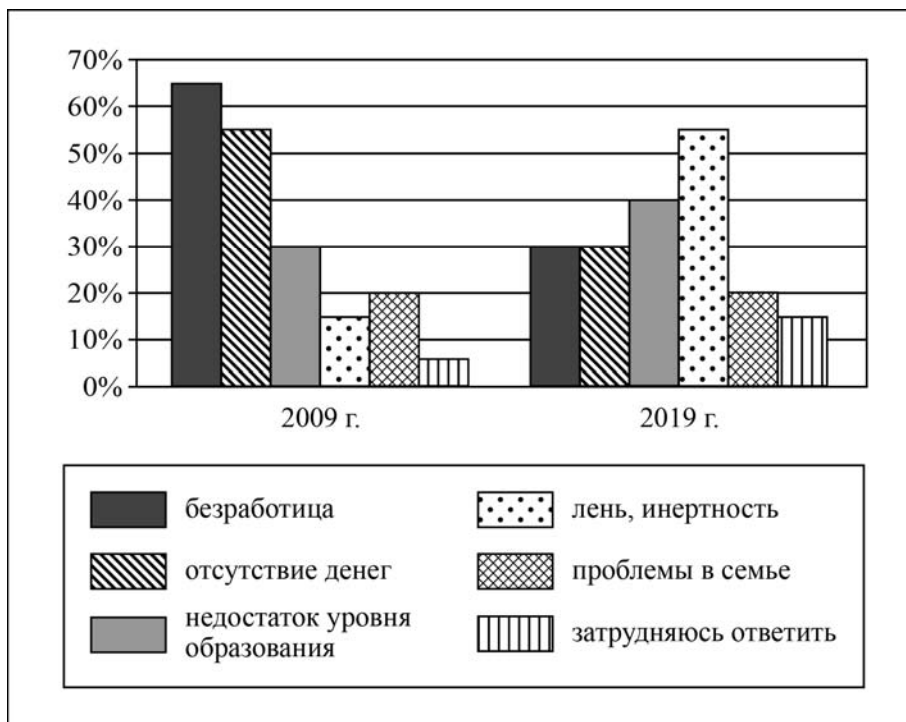
Ответ на четвёртый вопрос: _____



14

В 2008 г. правительство государства Z инициировало широкомасштабные социально-экономические реформы. В ходе социологических опросов совершеннолетних жителей страны Z им задавали вопрос о тех трудностях, с которыми им приходится сталкиваться (можно было указать не более трёх позиций).

Полученные результаты (в % от числа опрошенных) представлены в виде диаграммы.



Сформулируйте по одному выводу: а) о сходстве; б) о различии в позициях групп опрошенных. Выскажите предположение о том, чем объясняются указанные Вами: а) сходство; б) различие.

Ответ: _____

15

Загорелся оставленный без надзора электробытовой прибор и мебель под ним. Назовите не менее четырёх правил безопасного поведения, которые необходимо выполнить в этом случае.

Ответ: _____

16

На прогулке в лесу можно попасть под сильный ветер и ливень. Это опасные для здоровья и жизни ситуации. Объясните, в чём состоит опасность. Назовите не менее двух действий, которые нужно предпринять при сильном ветре и ливне для обеспечения своей безопасности.

Ответ: _____

17

Определите регион России по его краткому описанию.

Эта область находится на юге Европейской части России, имеет выход к морю, на западе граничит с одной из зарубежных стран. В рельефе преобладают равнины, на западе разведаны месторождения каменного угля. Благоприятный климат, плодородные чернозёмные почвы способствуют развитию агропромышленного комплекса. В области действует атомная электростанция. Административный центр – город-миллионер, через него проходят важные автомобильная и железнодорожная магистрали, связывающие Центр России с южными регионами России и зарубежными странами.

Ответ: _____.

18

Прочитайте приведённый ниже текст, в котором пропущен ряд слов (сочетание слов). Выберите из предлагаемого списка слова (сочетание слов), которые необходимо вставить на места пропусков.

Особенности географического положения и климата Европейского Севера России

Территория Европейского Севера России находится в трёх климатических поясах: арктическом, субарктическом и умеренном. Часть территории Европейского Севера России расположена за Полярным кругом. Арктический климат распространён на севере архипелага Новая Земля; субарктический – в расширяющейся к востоку полосе между арктическим и умеренным климатическими поясами. Для большей части территории района характерен _____ (А) тип климата. На климат северо-западного побережья района влияет _____ (Б) океаническое течение. Увлажнение на территории Европейского Севера России _____ (В).

Выбирайте последовательно одно слово (сочетание слов) за другим, мысленно вставляя на места пропусков слова (сочетание слов) из списка в нужной форме. Обратите внимание на то, что слов в списке больше, чем Вам потребуется для заполнения пропусков. Каждое слово (сочетание слов) может быть использовано только один раз.

Список слов (сочетание слов):

- 1) холодное
- 2) континентальный
- 3) тёплое
- 4) недостаточное
- 5) умеренно континентальный
- 6) избыточное

В данной ниже таблице приведены буквы, обозначающие пропущенные слова (сочетание слов). Запишите в таблицу под каждой буквой номер выбранного Вами слова (сочетания слов).

Ответ:

А	Б	В

19

Установите соответствие между республикой в составе РФ и её столицей: к каждому элементу первого столбца подберите соответствующий элемент из второго столбца.

РЕСПУБЛИКА

- А) Бурятия
- Б) Карелия
- В) Чувашская

СТОЛИЦА

- 1) Улан-Удэ
- 2) Йошкар-Ола
- 3) Чебоксары
- 4) Петрозаводск

Запишите в таблицу выбранные цифры под соответствующими буквами.

Ответ:

А	Б	В

20

Потенциал российских регионов для развития туризма огромен. Каждый из них имеет рекреационные ресурсы, способные привлечь тысячи туристов из России и зарубежных стран. Определите субъект Российской Федерации по описанию его рекреационного потенциала.

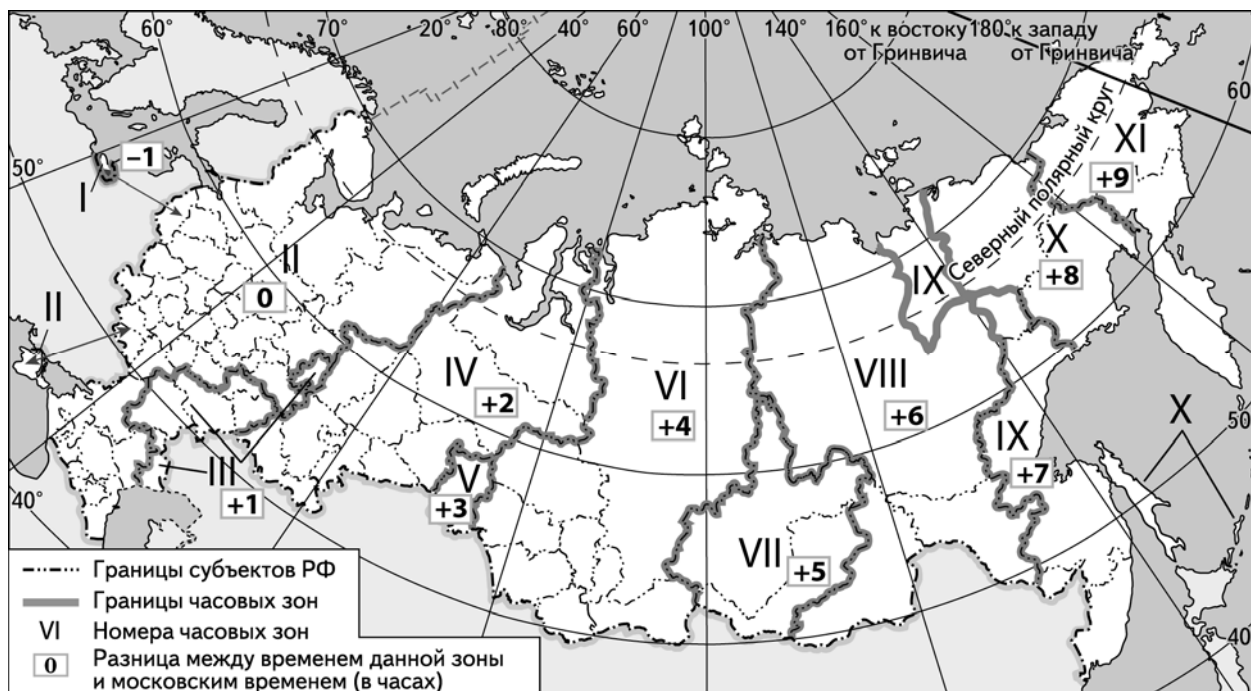
«Этот регион имеет прекрасные возможности для развития самых различных видов туризма. На его территории находятся несколько заповедников и национальных парков, включая знаменитый Ильменский заповедник. Знаменитая Игнатьевская пещера и уникальный историко-археологический центр "Аркаим" являются памятниками древней культуры человечества. Привлекательны для туристов такие природные объекты как Устиновский каньон в верховьях реки Миасс, Саткинские пороги на реке Большая Сатка, озеро Зюраткуль – самое высокогорное озеро Южного Урала. Для любителей промышленного туризма есть возможность посетить завод художественного литья в городе Касли и легендарный Магнитогорский металлургический комбинат.»

Ответ: _____

21

Прямая трансляция парада на Красной площади в Москве 9 мая в честь празднования 75-летия Победы в Великой Отечественной войне начнётся в 10 часов по московскому времени.

Используя карту, определите, в каких из перечисленных регионов эта трансляция начнётся в 12 часов по местному времени этих регионов. Запишите цифры, под которыми они указаны.



- 1) Свердловская область
- 2) Красноярский край
- 3) Иркутская область
- 4) Пермский край
- 5) Псковская область
- 6) Оренбургская область

Ответ: _____

22

Многие банки предоставляют возможность подключения автоплатежа за коммунальные услуги, который оформляется через личный кабинет клиента на сайте соответствующего банка.

1) Какие сведения должен указать клиент в своём личном кабинете?

Ответ: _____

2) Как Вы думаете, что будет происходить после запуска клиентом данной услуги?

Ответ: _____

3) В чём преимущество автоплатежа перед другими способами оплаты коммунальных услуг? (Укажите любые два преимущества.)

Ответ: _____

4) Как Вы думаете, почему некоторые граждане не заинтересованы в оформлении автоплатежа? (Выскажите своё предположение.)

Ответ: _____

